

ТЕСТЫ
ПО МАТЕМАТИКЕ
ДЛЯ 1 КЛАССА
УМК «Школа России»

Подготовила
учитель начальных классов
МБОУ «СОШ№41»
Гилязиева Валентина Николаевна

Ягубов.РФ

Содержание

- 1. Контрольная работа №1 по математике 1 класс (1 четверть) по теме «Многоугольники».**
- 2. Контрольная работа №2 по математике 1 класс (1 четверть) по теме «Числа от 1 до 5. Состав чисел 2-5».**
- 3. Контрольная работа №3 по математике 1 класс (1 четверть) по теме «Числа от 1 до 10 и число 0».**
- 4. Контрольная работа №4 по математике 1 класс (2 четверть) по теме «Прибавить и вычесть число 3».**
- 5. Контрольная работа №5 по математике 1 класс (2 четверть) по теме «Сложение и вычитание».**
- 6. Контрольная работа №6 по математике 1 класс (3 четверть) по теме «Решение задач на разностное сравнение».**
- 7. Контрольная работа №7 по математике 1 класс (3 четверть) по теме «Числа первого десятка. Сложение и вычитание».**
- 8. Контрольная работа №8 по математике 1 класс (4 четверть) по теме «Случай вычитания $12 - \square$**
- 9. Контрольная работа №9 по математике 1 класс (4 четверть) по теме: «Табличное сложение и вычитание»**

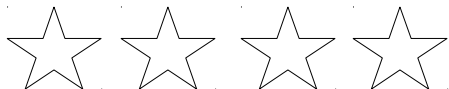
Контрольная работа №1 по математике 1 класс (1 четверть) по теме «Многоугольники».

I четверть

Контрольная работа № 1

Вариант 1

1. Нарисуй кружок. Слева от него нарисуй квадрат
2. Нарисуй пять треугольников. Закрась четвёртый
3. Нарисуй столько флажков, сколько пальцев на левой руке
4. Нарисуй 9 кружков. Закрась каждый второй
5. Обозначь числом количество фигур:

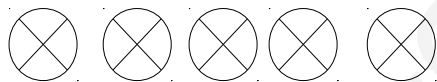


I четверть

Контрольная работа № 1

Вариант 2

1. Нарисуй квадрат. Справа от него нарисуй кружок
2. Нарисуй пять кружков. Закрась третий
3. Нарисуй столько флажков, сколько окон в классе
4. Нарисуй 9 кружков. Закрась каждый третий
5. Обозначь числом количество фигур:

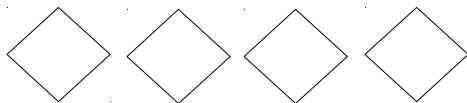


I четверть

Контрольная работа № 1

Вариант 3*

1. В центре нарисуй квадрат. Кружок нарисуй слева от квадрата. Треугольник нарисуй справа от квадрата.
2. Нарисуй пять красных квадратов. Зачеркни второй.
3. У Вани шариков больше 3 и меньше 5. Нарисуй эти шарики
4. Нарисуй 9 кружков. Закрась в таком порядке: два красных, один зелёный и так далее
5. Дорисуй ещё две фигуры. Обозначь числом общее количество фигур:



Контрольная работа №2 по математике 1 класс (1 четверть) по теме «Числа от 1 до 5. Состав чисел 2-5».

I четверть

Контрольная работа № 2

Вариант 1

1. Запиши цифрой число:
Один Шесть
Четыре Два

2. Обведи кружком самое маленькое число:
5 2 4 1 3

3. Нарисуй 6 треугольников. Зачеркни столько треугольников, чтобы осталось 4 треугольника

4. Вставь пропущенное число:
 $4 = \dots + 1$ $3 = 1 + \dots$ $5 = \dots + 2$

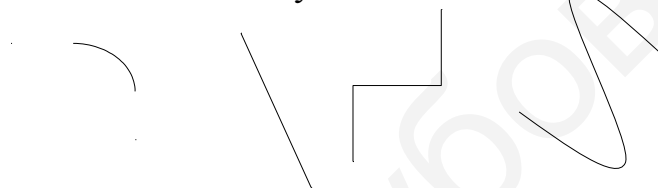
5. Сделай рисунок и реши задачу:
У Оли было 3 шара. Один шар лопнул. Сколько шаров осталось у девочки?

Рисунок:

Решение:

Ответ:

6. Обведи ломаную линию:



7. Соедини точки так, чтобы получилась ломаная линия из двух звеньев:



I четверть

Контрольная работа № 2

Вариант 2

1. Запиши число цифрой:
Три Пять
Семь Восемь

2. Обведи кружком самое большое число:
3 1 5 2 4

3. Нарисуй 7 кружков. Зачеркни столько кружков, чтобы осталось 3 кружка

4. Вставь пропущенное число:

$5 = 4 + \dots$

$3 = \dots + 1$

$4 = 1 + \dots$

5. Сделай рисунок и реши задачу:


На тарелке было 4 яблока. Витя съел одно яблоко. Сколько яблок осталось?

Рисунок:

Решение:

Ответ:

6. Обведи кривую линию:



7. Соедини точки так, чтобы получилась ломаная линия из трёх звеньев:



I четверть

Контрольная работа № 2

Вариант 3*

1. Запиши число цифрой:

Ноль
Десять

Девять
Шесть

2. Обведи синим кружком самое маленькое число, а красным кружком – самое большое число:

7 3 8 1 9 10

3. Нарисуй 4 кружка и 5 квадратов. Зачеркни столько фигур, чтобы осталось 6 фигур

4. Вставь пропущенное число:

$4 = \dots + 2$

$5 = \dots + 0$

$3 = 3 + \dots$

5. Сделай рисунок и реши задачу:

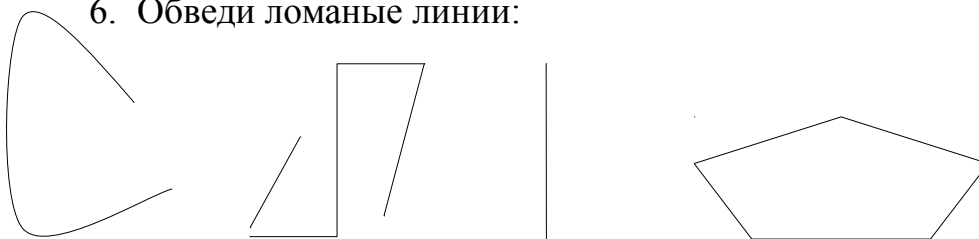
На ветке сидели 5 воробьёв. Два воробья улетели. Сколько воробьёв осталось на ветке?

Рисунок:


Решение:

Ответ:

6. Обведи ломаные линии:



7. Соедини точки отрезками так, чтобы получилась замкнутая ломаная линия:



Контрольная работа №3 по математике 1 класс (1 четверть) по теме «Числа от 1 до 10 и число 0».

I четверть

Контрольная работа № 3

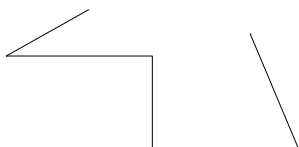
Вариант 1

1. Запиши числа от 1 до 5
2. Запиши числа от 6 до 2
3. Напиши пропущенные числа:
1, , 3, , 5, , , 8
4. Выполни действия, запиши ответы:
 $1 + 2 =$ $4 + 1 =$ $5 - 1 =$ $5 + 1 =$ $7 - 1 =$
 $1 + 1 =$ $9 + 1 =$ $3 - 1 =$ $7 + 1 =$ $2 + 2 =$
 $2 + 1 =$ $4 - 1 =$ $3 + 1 =$ $7 + 1 =$ $10 - 1 =$
5. Запиши числа в порядке увеличения:
10, 2, 6, 7, 3
6. Поставь знаки $>$, $<$ или $=$:
 $2 \dots 3$ $5 \dots 3$ $5 \dots 5$ $7 \dots 6$
7. Измерь полоску. Начинай измерение от деления с цифрой «0» на линейке. Запиши рядом результат измерения:



см

8. Сколько звеньев у ломаной?
Ответ:



I четверть

Контрольная работа № 3

Вариант 2

1. Запиши числа от 2 до 6
2. Запиши числа от 9 до 5
3. Напиши пропущенные числа:
2, , 4, , , 7, , 9

4. Выполни действия, запиши ответы:

$2 + 1 =$	$5 - 1 =$	$3 + 1 =$	$7 - 1 =$	$3 - 1 =$
$9 - 1 =$	$1 - 1 =$	$7 + 1 =$	$4 + 1 =$	$2 - 1 =$
$6 + 1 =$	$8 - 1 =$	$8 + 1 =$	$4 - 1 =$	$5 + 1 =$


5. Запиши числа в порядке увеличения:

9, 1, 8, 4, 10

6. Поставь знаки $>$, $<$ или $=$:

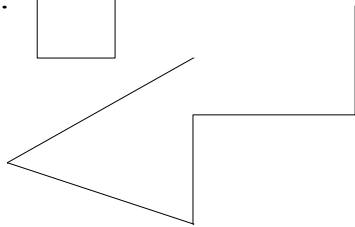
3 ... 4 2 ... 1 8 ... 7 4 ... 4

7. Измерь полоску. Начинай измерение от деления с цифрой «0» на линейке. Запиши рядом результат измерения:



8. Сколько звеньев у ломаной линии?

Ответ:



I четверть

Контрольная работа № 3

Вариант 3*

1. Запиши числа от 4 до 10
2. Запиши числа от 9 до 3
3. Напиши пропущенные числа:

8, , 6, , 3, , 1

4. Выполни действия, запиши ответы:

$7 + 1 =$	$4 - 3 =$	$6 - 1 =$	$3 - 1 =$	$9 + 1 =$
$6 + 1 =$	$2 + 2 =$	$5 - 2 =$	$5 - 3 =$	$7 - 1 =$
$3 - 2 =$	$3 + 2 =$	$5 - 4 =$	$4 - 2 =$	$10 - 1 =$

5. Запиши числа сначала в порядке увеличения, а затем в порядке уменьшения:

6, 3, 9, 1, 5, 8

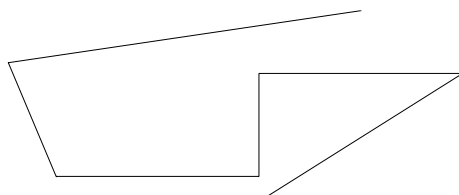
6. Поставь знаки $>$, $<$ или $=$:

$4 + 1 \dots 5$ $2 + 1 \dots 4$ $2 - 1 \dots 2$
 $4 - 1 \dots 3$ $5 - 1 \dots 4$ $3 - 1 \dots 1$

7. Измерь полоску. Начинай измерение от деления с цифрой «0» на линейке. Запиши рядом результат измерения:



8. Сколько звеньев у ломаной линии?
Ответ:



Контрольная работа №4 по математике 1 класс (2 четверть) по теме «Прибавить и вычесть число 3».

II четверть

Контрольная работа № 4

Вариант 1

1. Вставь нужную цифру:

$7 - \square = 4$ $6 - 2 = \square$

$10 - 0 = \square$ $\square - 1 = 6$


$\square + 2 = 8$ $6 - 2 = \square$

2. Подчеркни примеры с ответом 3:

$2 + 1$ $4 - 1$

$5 - 1$ $2 + 2$

$3 + 1$ $3 + 0$

3. Нарисуй столько и , чтобы всего их было 5. Подчеркни те, которых меньше.

4. Впиши конечный ответ:

6	-2	+1	-2	+1
---	----	----	----	----

5. Сделай рисунок и реши задачу:

Было 3 сливы. Съели одну сливу. Сколько слив осталось?

Рисунок:

Решение:

Ответ:

6. Сделай рисунок и реши задачу:

Посадили 6 берёз и два клёна. Сколько деревьев посадили?

Рисунок:

Решение:

Ответ:

II четверть

Контрольная работа № 4

Вариант 2

1. Вставь нужную цифру:

$4 + \square = 6$

$3 + 2 = \square$

$10 - \square = 9$

$\square + 1 = 7$

$\square - 2 = 8$

$\square - 9 = 1$

2. Подчеркни примеры с ответом 5:

$2 + 3$



$7 - 1$

$6 - 1$

$4 + 2$


$4 + 1$

$5 + 0$

3. Нарисуй столько  и , чтобы всего их было 5. Подчеркни те, которых больше.

4. Впиши конечный ответ:

7	-1	+0	-6	+3
---	----	----	----	----



5. Сделай рисунок и реши задачу:

На столе было 5 чашек. 2 чашки убрали. Сколько чашек осталось на столе?

Рисунок:

Решение:

Ответ:

6. Сделай рисунок и реши задачу:

У Ани 5 кукол и 2 мишки? Сколько игрушек у Ани?

Рисунок:

Решение:

Ответ:

II четверть

Контрольная работа № 4

Вариант 3*

1. Вставь нужную цифру:

$2 - \dots = 0$

$\dots - 2 = 4$

$1 + \dots = 1$

$7 + \dots = 9$



$$\dots - 1 = 7 \quad 10 - \dots = 8$$

2. Подчеркни примеры с ответом 6:

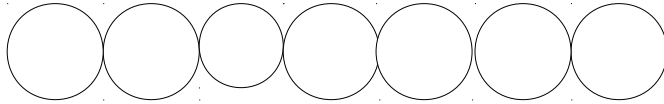
$$9 - 1 - 2 \quad 1 + 2 + 3$$

$$5 + 4 - 2 \quad 9 - 4 + 1$$

$$10 - 1 - 2 \quad 2 + 2 + 2$$

3. Нарисуй столько  и , чтобы всего их было 6 и квадратов на 2 больше, чем треугольников.

4. Впиши конечный ответ:



$$10 - 5 - 3 - 2 + 7 + 2 =$$

5. Сделай рисунок и реши задачу:

На столе 6 стаканов. В два стакана налили сок, а в остальные морс. Сколько стаканов с морсом?

Рисунок:

Решение:

Ответ:

6. Петя съел 2 пирожных. Столько же пирожных съел Юра. Сколько пирожных съели мальчики?

Рисунок:

Решение:

Ответ:

Контрольная работа №5 по математике 1 класс (2четверть) по теме «Сложение и вычитание».

II четверть

Контрольная работа № 5

Вариант 1

1. Реши задачу:

На столе 6 тарелок, а вилок на 3 больше. Сколько вилок на столе?

Решение:

Ответ:

2. Реши задачу:

По дороге едут 5 машин, а автобусов на 2 меньше. Сколько автобусов?

Решение:

Ответ:

3. Реши примеры, запиши ответы:

$$5 + 3 = \quad 7 + 2 =$$

$$9 - 3 = \quad 6 - 3 =$$

$$2 + 3 = \quad 10 - 2 =$$

4. Запиши недостающие числа:

8	2			4	8
		5	7		

5. Нарисуй 9 кружков. Закрась их зелёным и красным карандашом так, чтобы зелёных было на 1 больше, чем красных:

6. Начерти отрезок длиной 3 см. запиши его длину. Ниже начерти отрезок, который на 2 см длиннее. Запиши его длину.

II четверть

Контрольная работа № 5

Вариант 2

1. Реши задачу:

В букете 6 роз, а гвоздик на 2 больше. Сколько гвоздик в букете?

Решение:

Ответ:

2. Реши задачу

На дереве сидят 9 синиц, а воробьёв на 3 меньше. Сколько воробьёв на дереве?

Решение:

Ответ:

3. Реши примеры, запиши ответы:

$$10 - 3 = \quad 6 + 3 =$$

$$4 + 2 = \quad 8 - 3 =$$

$$9 - 2 = \quad 3 + 3 =$$

4. Запиши недостающие числа:

9	2			4	8
		5	3		

5. Нарисуй 8 квадратов. Закрась их красным и синим карандашом так, чтобы синих было на 2 меньше, чем красных:

6. Начерти отрезок длиной 7 см. Запиши его длину. Ниже начерти отрезок, который на 2 см короче. Запиши его длину.

II четверть

Контрольная работа № 5

Вариант 3*

1. Реши задачу:

Диме 10 лет. Маша на 3 года моложе. Сколько лет Маше?

Решение:

Ответ:

2. Реши задачу:

Тетрадь стоит 3 рубля. Блокнот на 2 рубля дороже. Сколько стоит блокнот?

Решение:

Ответ:

3. Реши примеры, запиши ответы:

$$9 - 2 + 3 = \qquad 5 + 2 - 3 =$$

$$7 + 2 - 1 = \qquad 6 - 3 - 3 =$$

$$2 + 3 + 5 = \qquad 10 - 2 + 1 =$$

4. Запиши недостающие числа:

10	2			6	8	
		5	7			0

5. Нарисуй 9 треугольников. Закрась их красным и жёлтым карандашом так, чтобы жёлтых было на 3 больше:

6. Начерти отрезок длиной 5 см. Запиши его длину. Ниже начерти отрезок такой же длины. Запиши его длину.

Ягубов.РФ

Контрольная работа №6 по математике 1 класс (3 четверть) по теме «Решение задач на разностное сравнение».

III четверть

Контрольная работа № 6

Вариант 1

1. Вычисли. Запиши ответы:

$$2 + 6 - 3 = \quad 5 + 2 + 2 = \quad 10 - 3 + 1 =$$

$$3 + 7 - 4 = \quad 6 - 4 + 5 = \quad 8 - 3 + 4 =$$

$$8 - 2 - 2 = \quad 4 + 5 - 2 = \quad 6 + 3 + 1 =$$

2. Реши задачу:

Карандаш стоит 5 рублей. Ручка на 3 рубля дороже. Сколько стоит ручка?

Решение:

Ответ:

3. Реши задачу:

Лене 8 лет. Антон на 2 года моложе. Сколько лет Антону?


Решение:

Ответ:

4. Одно число на 2 больше другого. Запиши эти числа:

Ответ: и

5. На сколько сантиметров отличаются эти отрезки?



Ответ: на ... см

6. Какие знаки пропущены? (+, -)

$$9 \dots 3 \dots 2 = 8$$

III четверть

Контрольная работа № 6

Вариант 2

1. Вычисли. Запиши ответы:

$$3 + 6 - 2 = \quad 6 + 2 + 2 = \quad 10 - 4 + 1 =$$

$$\begin{array}{lll} 2 + 7 - 4 = & 7 - 4 + 5 = & 7 - 3 + 4 = \\ 7 - 2 - 3 = & 3 + 5 - 2 = & 5 + 3 + 2 = \end{array}$$

2. Реши задачу:

Пирожок стоит 7 рублей. Булочка на 2 рубля дешевле. Сколько стоит булочка?

Решение:

Ответ:

3. Реши задачу:

Диме 7 лет. Миша на 3 года старше Димы. Сколько лет Мише?

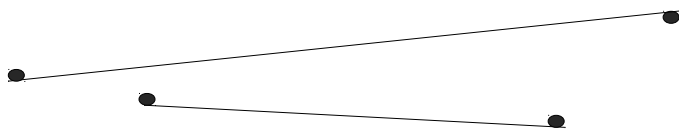
Решение:

Ответ:

4. Одно число на 3 больше другого. Запиши эти числа:

Ответ: и

5. На сколько сантиметров отличаются эти отрезки?



Ответ: на ... см

6. Какие знаки пропущены? (+, -)

$$6 \dots 3 \dots 2 = 7$$

III четверть

Контрольная работа № 6

Вариант 3*

1. Вычисли. Запиши ответы:

$$\begin{array}{lll} 4 + 6 - 2 = & 2 + 4 + 4 = & 10 - 3 + 2 = \\ 3 + 5 - 4 = & 6 - 6 + 5 = & 3 - 3 + 4 = \end{array}$$

$$8 - 3 - 4 = \quad 4 + 6 - 2 = \quad 4 + 3 + 1 =$$

2. Сделай краткую запись и реши задачу:

Стакан выше чашки на 3 см. Высота стакана 10 см. Какова высота чашки?

Условие:

Решение:

Ответ:

3. Сделай краткую запись и реши задачу:

Бублик на 2 рубля дешевле ватрушки. Ватрушка стоит 10 рублей. Сколько стоит бублик?

Условие:

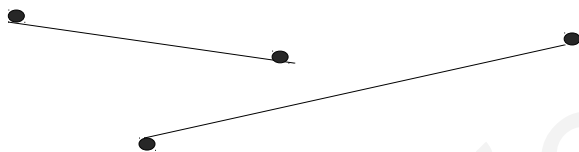
Решение:

Ответ:

4. Одно число на 3 меньше другого. Запиши эти числа:

Ответ: и

5. На сколько сантиметров отличаются эти отрезки?



Ответ: на ... см

6. Какие знаки пропущены? (+, -)

$$5 \dots 3 \dots 2 = 10$$

Контрольная работа №7 по математике 1 класс (3 четверть) по теме «Числа первого десятка. Сложение и вычитание».

III четверть

Контрольная работа № 7

Вариант 1

1. Вычисли. Запиши ответы:

$$4 + 5 =$$

$$8 - 8 =$$

$$9 - 5 =$$

$3 + 2 =$	$6 - 5 =$	$5 - 1 =$
$4 + 4 =$	$9 - 3 =$	$2 - 2 =$
$1 + 8 =$	$10 - 2 =$	$4 - 3 =$
$5 + 3 =$	$5 - 4 =$	$8 - 4 =$
$7 + 2 =$	$7 - 6 =$	$10 - 7 =$

2. Реши задачу:

В автобусе было 10 пассажиров. На остановке вышли 3 пассажира. Сколько пассажиров осталось в автобусе?

Рисунок:

Решение:

Ответ:

3. Начерти два отрезка. Длина одного из них 8 см, а другого - на 2 см больше. Подпиши длину каждого отрезка.

4. Сравни, поставь знаки $<$, $>$ или $=$:

$$6 + 2 \dots 7 \qquad 8 - 1 \dots 7$$

$$2 + 4 \dots 6 \qquad 9 - 1 \dots 9$$

5. Запиши в окошках числа:

10 больше, чем 2 на

4 меньше, чем 9 на

III четверть

Контрольная работа № 7

Вариант 2

1. Вычисли. Запиши ответы:

$$2 + 3 = \qquad 9 - 7 = \qquad 8 - 7 =$$

$$5 + 4 = \qquad 8 - 4 = \qquad 4 - 2 =$$

$$1 + 9 = \qquad 5 - 3 = \qquad 3 - 1 =$$

$6 + 3 =$	$7 - 7 =$	$7 - 0 =$
$7 + 1 =$	$10 - 4 =$	$6 - 5 =$
$4 + 2 =$	$4 - 2 =$	$4 - 4 =$

2. Реши задачу:

Миша с папой были на рыбалке. Папа поймал 7 рыбок, а Миша – 3 рыбки. Сколько всего рыбок они поймали?

Рисунок:

Решение:

Ответ:

3. Начерти два отрезка. Длина одного из них 7 см, а другого - на 2 см меньше. Подпиши длину каждого отрезка.

4. Сравни, поставь знаки $<$, $>$ или $=$:

$10 - 4 \dots 6$	$6 + 3 \dots 8$
$8 + 1 \dots 9$	$6 - 3 \dots 4$

5. Запиши в окошках числа:

9 больше, чем 3 на

5 меньше, чем 8 на

III четверть

Контрольная работа № 7

Вариант 3*

1. Вычисли. Запиши ответы:

$5 - 3 + 4 =$	$8 + 2 - 4 =$	$4 - 2 + 4 =$
$4 + 2 - 3 =$	$10 - 4 + 1 =$	$7 - 7 + 4 =$
$10 - 2 - 4 =$	$8 - 7 + 3 =$	$8 - 4 - 4 =$

$1 + 6 - 2 =$

$6 - 5 + 7 =$

$10 - 5 - 3 =$

$9 - 3 - 3 =$

$3 + 3 + 3 =$

$2 + 2 + 2 =$

$3 + 7 - 4 =$

$2 - 1 + 4 =$

$8 - 6 - 1 =$

2. Реши задачу:

В автобусе ехали 9 пассажиров. На остановке вышли 3 пассажира, а вошли 4 пассажира. Сколько пассажиров стало в автобусе?

Рисунок:

Решение:

Ответ:

3. Начерти три отрезка. Длина одного из них 5 см. второй такой же длины, а третий – на 3 см длиннее второго. Подпиши длину каждого отрезка.

4. Сравни, поставь знаки $<$, $>$ или $=$:

$7 - 1 \dots 1 + 7$

$10 - 3 \dots 5 + 1$

$8 - 2 \dots 9 - 3$

$4 + 4 \dots 10 - 1$

5. Запиши в окошках числа:

10 больше, чем 1 на

4 меньше, чем 10 на

Контрольная работа №8 по математике 1 класс (4 четверть) по теме «Случай вычитания 12 -

4 четверть

Контрольная работа № 8

Вариант 1

1. Запиши цифрами числа:

Семнадцать

Одиннадцать

Двадцать

2. Заполни пропуски:

1 десяток и 4 единицы – это число

В числе 20 десятка и единиц

3. Запиши числа в порядке их уменьшения: 16, 11, 19

4. Сравни числа, поставь знаки $<$, $>$ или $=$:

$15 \dots 12$

$17 \dots 19$

$17 \dots 17$

5. Запиши пример и реши его, если:

Первое слагаемое 8, второе слагаемое 2

Уменьшаемое 8, вычитаемое 2

6. Каждое число уменьши на 4:

9

6

4

8

7. Сделай рисунок и реши задачу:

В пакете 5 груш и 8 яблок. На сколько яблок больше, чем груш?

Условие:

Решение:

Ответ:

8. Запиши, какой длины отрезок. Начерти отрезок на 1 см длиннее данного:

9. 5 увеличили на 4, а затем результат уменьшили на 7. Какое число получилось?

Ответ:

4 четверть

Контрольная работа № 8

Вариант 2

1. Запиши цифрами числа:

Пятнадцать

Двадцать

Восемнадцать

2. Заполни пропуски:

1 десяток и 5 единиц – это число

В числе 19 десятков и единиц

3. Запиши числа в порядке их увеличения: 12, 20, 16

4. Сравни, поставь знаки $<$, $>$ или $=$:

18 ... 16 11 ... 15 13 ... 13

5. Запиши пример и реши его, если:

Первое слагаемое 6, второе слагаемое 4

Уменьшаемое 6, вычитаемое 4

6. Каждое число увеличь на 3:

3 7 5 2

7. Сделай рисунок и реши задачу:

На столе 6 чашек и 3 блюда. На сколько чашек больше, чем блюдо?

Условие:

Решение:

Ответ:

8. Запиши, какой длины отрезок. Начерти отрезок на 2 см короче данного:

9. 8 уменьшили на 5, а затем результат увеличили на 7. Какое число получилось?

Ответ:

4 четверть

Контрольная работа № 8

Вариант 3*

1. Запиши цифрами числа:

Одиннадцать

Двадцать

Четырнадцать

2. Заполни пропуски:

2 десятка и 0 единицы – это число

В числе 12 десятков и единиц

В числе 11 десятков и единица

3. Запиши числа в порядке их уменьшения: 13, 11, 19, 20

4. Сравни, поставь знаки $<$, $>$ или $=$:

19 ... 20

20 ... 12

18 ... 19

5. Запиши пример и реши его, если:

Первое слагаемое 10, второе слагаемое 2

Уменьшаемое 10, вычитаемое 2

6. Увеличь каждое число на 5:

2 0 5 3 4

7. Сделай рисунок и реши задачу:

Брату 7 лет, а сестре 4 года. На сколько лет брат старше сестры

Условие:

Решение:

Ответ:

8. Начерти отрезок длина которого меньше 1 дм. Запиши его длину

9. 10 уменьшили на 9, а затем результат увеличили на 4. Какое число получилось?

Контрольная работа №9 по математике 1 класс (4 четверть) по теме «Табличное сложение и вычитание»

IV четверть

Контрольная работа № 9 (итоговая)

Вариант 1

1. Реши задачу:

Света вымыла 8 глубоких тарелок, а мелких на 3 меньше. Сколько всего тарелок вымыла Света?

Условие:

Решение:

Ответ:

2. Реши задачу:

С огорода принесли 15 помидоров и огурцов. Помидоров было 7 сколько было огурцов?

Условие:

Решение:

Ответ:

3. Вычисли. Запиши ответы:

$9 + 7$	$20 - 2$	$16 - 4$
$8 + 8$	$18 - 10$	$12 - 9$
$17 + 3$	$15 - 5$	$18 - 9$

4. Сравни. Поставь знак $<$, $>$ или $=$:

$14 - 8 \dots 14 - 9$

$15 \dots 9 + 7$

5. Поставь нужный знак:

$13 \dots 6 = 20$

$15 \dots 5 = 10$

6. Длина одного отрезка 1 дм, длина другого отрезка 6 см. начерти их и узнай, на сколько сантиметров первый отрезок длиннее второго.

IV четверть

Контрольная работа № 9 (итоговая)

Вариант 2

1. Реши задачу:

Папа купил 5 тетрадей в линейку, а в клетку – на 3 тетради больше. Сколько всего тетрадей купил папа?

Условие:

Решение:

Ответ:

2. Реши задачу:

Даша вымыла 15 ложек и вилок. Ложек она вымыла 6. Сколько вилок вымыла Даша?

Условие:

Решение:

Ответ:

3. Вычисли. Запиши ответы:

$9 + 6$	$20 - 6$	$16 - 3$
$6 + 7$	$17 - 7$	$18 - 9$
$16 + 4$	$13 - 10$	$14 - 7$

4. Сравни. Поставь знак $<$, $>$ или $=$:

$$10 + 10 \dots 10 + 9$$

$$15 - 9 \dots 8$$

5. Поставь нужный знак:

$$9 \dots 9 = 19$$

$$12 \dots 2 = 10$$

6. Длина одного отрезка 7 см, а длина другого – 1 дм. Начерти их и узнай, на сколько сантиметров первый отрезок короче второго.

IV четверть

Контрольная работа № 9 (итоговая)

Вариант 3*

1. Реши задачу:

Мастер сделал 9 деталей, а ученик на 3 детали меньше. Сколько всего деталей сделали мастер и ученик?

Условие:

Решение:

Ответ:

2. Реши задачу:

Ручка и тетрадь вместе стоят 16 рублей. Тетрадь стоит 8 рублей. Сколько стоит ручка?

Условие:

Решение:

Ответ:

3. Вычисли. Запиши ответы:

$8 + 7$	$20 - 9$	$18 - 5$
$6 + 6$	$14 - 4$	$17 - 9$
$18 + 2$	$12 - 10$	$16 - 8$

4. Сравни. Поставь знак $<$, $>$ или $=$:

$$13 - 7 \dots 15 - 7$$

$$14 + 5 \dots 20$$

5. Поставь нужный знак:

$$10 \dots 10 = 20$$

$$12 \dots 12 = 0$$

6. Длина одного отрезка 1 дм 2 см, а другого 7 см. начерти их и узнай, на сколько сантиметров первый отрезок длиннее второго.

Ягубов.РФ