

Тренировочная работа по МАТЕМАТИКЕ

9 класс

27 сентября 2017 года

Вариант МА90104

Выполнена: ФИО _____ класс _____

Инструкция по выполнению работы

Работа состоит из двух модулей: «Алгебра» и «Геометрия». Всего в работе 26 заданий. Модуль «Алгебра» содержит семнадцать заданий: в части 1 — четырнадцать заданий; в части 2 — три задания. Модуль «Геометрия» содержит девять заданий: в части 1 — шесть заданий; в части 2 — три задания.

На выполнение экзаменационной работы по математике отводится 3 часа 55 минут (235 минут).

Ответы к заданиям 2, 3, 14 запишите в виде одной цифры, которая соответствует номеру правильного ответа.

Для остальных заданий части 1 ответом является число или последовательность цифр. Если в ответе получена обыкновенная дробь, обратите её в десятичную.

Решения заданий части 2 и ответы к ним запишите на отдельном листе бумаги. Задания можно выполнять в любом порядке, начиная с любого модуля. Текст задания переписывать не надо, необходимо только указать его номер.

Сначала выполняйте задания части 1. Начать советуем с тех заданий, которые вызывают у Вас меньше затруднений, затем переходите к другим заданиям. Для экономии времени пропускайте задание, которое не удаётся выполнить сразу, и переходите к следующему. Если у Вас останется время, Вы сможете вернуться к пропущенным заданиям.

При выполнении части 1 все необходимые вычисления, преобразования выполняйте в черновике. Записи в черновике не учитываются при оценивании работы. Если задание содержит рисунок, то на нём непосредственно в тексте работы можно выполнять необходимые Вам построения. Рекомендуем внимательно читать условие и проводить проверку полученного ответа.

При выполнении работы Вы можете воспользоваться справочными материалами, выданными вместе с вариантом.

Баллы, полученные Вами за выполненные задания, суммируются. Постарайтесь выполнить как можно больше заданий и набрать наибольшее количество баллов.

Желаем успеха!

Часть 1

Ответами к заданиям 1–20 являются цифра, число или последовательность цифр.

Модуль «Алгебра»

1 Найдите значение выражения $6,6 - 5 \cdot (-3,5)$.

Ответ: _____.

2 Бизнесмен Петров выезжает из Москвы в Санкт-Петербург на деловую встречу, которая назначена на 9:30. В таблице дано расписание ночных поездов Москва – Санкт-Петербург.

Номер поезда	Отправление из Москвы	Прибытие в Санкт-Петербург
038А	22:42	06:40
020У	00:56	08:53
016А	00:43	09:12
116С	00:35	09:01

Путь от вокзала до места встречи занимает полчаса. Укажите номер самого позднего (по времени отправления) поезда, который подходит бизнесмену Петрову.

- 1) 038А 2) 020У 3) 016А 4) 116С

Ответ:

3 Какому из данных промежутков принадлежит число $\frac{3}{7}$?

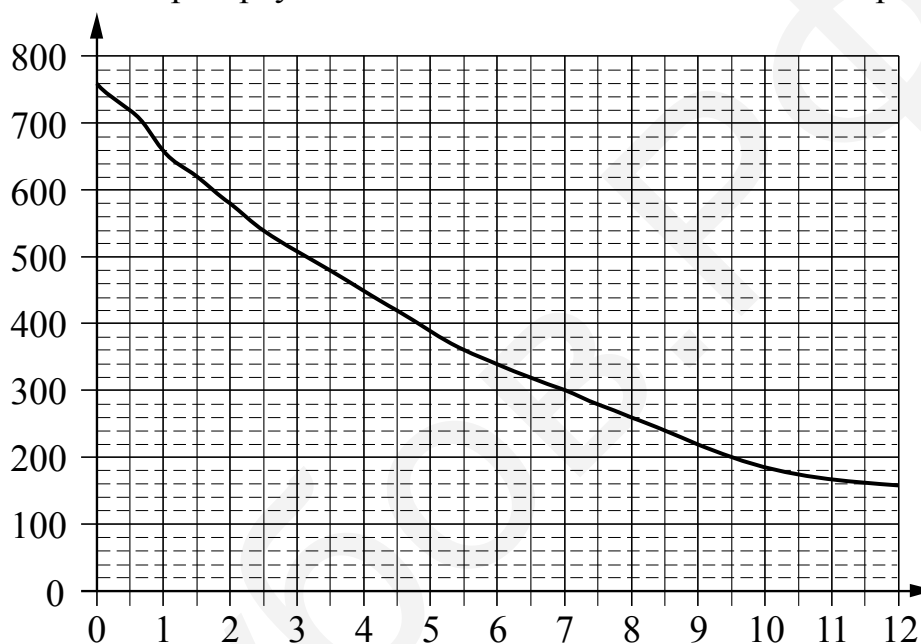
- 1) $[0,1; 0,2]$
2) $[0,2; 0,3]$
3) $[0,3; 0,4]$
4) $[0,4; 0,5]$

Ответ:

4 Найдите значение выражения $\frac{10^6}{2^5 \cdot 5^4}$.

Ответ: _____.

- 5 На графике изображена зависимость атмосферного давления от высоты над уровнем моря. На горизонтальной оси отмечена высота над уровнем моря в километрах, на вертикальной — давление в миллиметрах ртутного столба. Определите по графику, на какой высоте атмосферное давление равно 620 миллиметрам ртутного столба. Ответ дайте в километрах.



Ответ: _____.

6 Решите уравнение $(-2x + 1)(-2x - 7) = 0$.

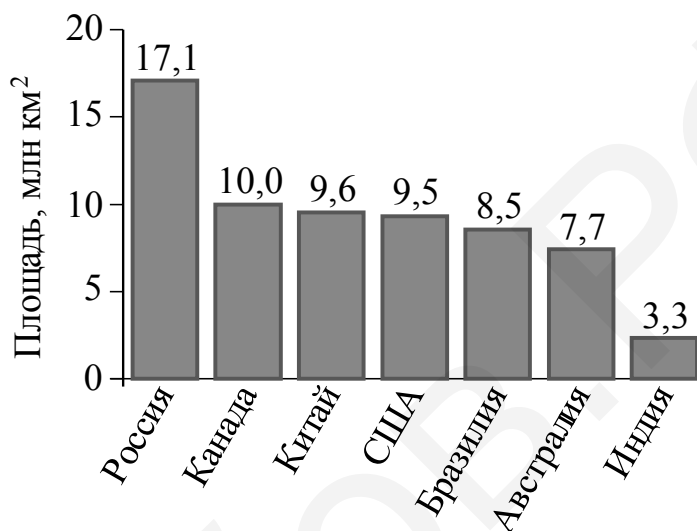
Если уравнение имеет более одного корня, в ответе запишите меньший из корней.

Ответ: _____.

- 7 Стоимость проезда в электропоезде составляет 119 рублей. Школьникам предоставляется скидка 50 %. Сколько рублей будет стоить проезд для 5 взрослых и 28 школьников?

Ответ: _____.

- 8 На диаграмме представлены семь крупнейших по площади территории (в млн км²) стран мира.



Какие из следующих утверждений верны?

- 1) Алжир входит в семёрку крупнейших по площади территории стран мира.
- 2) Площадь территории Бразилии составляет 8,7 млн км².
- 3) Площадь территории Канады больше площади территории Австралии.
- 4) Площадь территории Австралии больше площади территории Индии на 4,4 млн км².

В ответе запишите номера выбранных утверждений без пробелов, запятых и других дополнительных символов.

Ответ: _____.

- 9 На экзамене 50 билетов, Сеня **не выучил** 5 из них. Найдите вероятность того, что ему попадётся выученный билет.

Ответ: _____.

- 10** На рисунках изображены графики функций вида $y = kx + b$. Установите соответствие между знаками коэффициентов k и b и графиками функций.

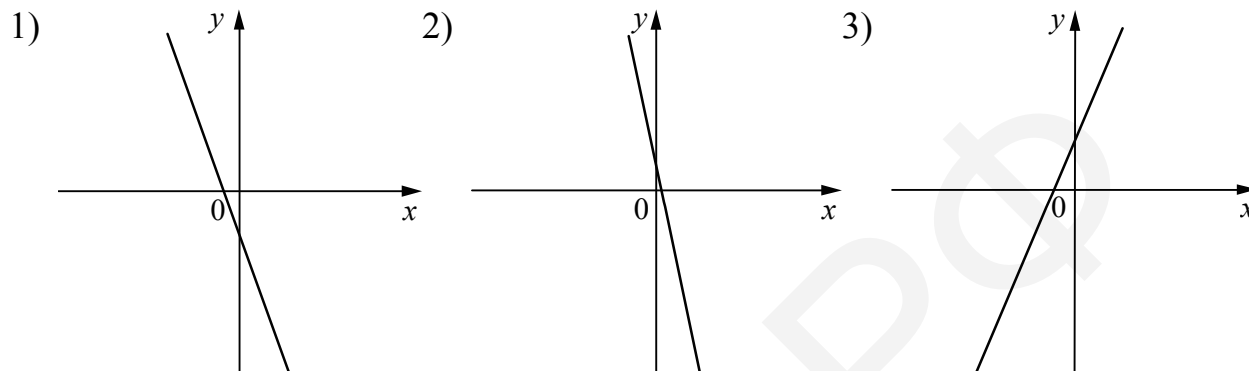
КОЭФФИЦИЕНТЫ

A) $k < 0, b < 0$

Б) $k < 0, b > 0$

В) $k > 0, b > 0$

ГРАФИКИ



В таблице под каждой буквой укажите соответствующий номер.

Ответ:

A	Б	В

- 11** Последовательность (a_n) задана формулой $a_n = \frac{40}{n+1}$. Сколько членов этой последовательности больше 2?

Ответ: _____.

- 12** Найдите значение выражения $\frac{9a}{8c} - \frac{81a^2 + 64c^2}{72ac} + \frac{8c - 81a}{9a}$ при $a = 54, c = 64$.

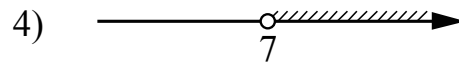
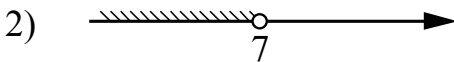
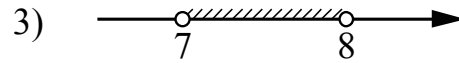
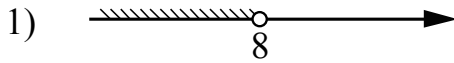
Ответ: _____.

- 13** В фирме «Родник» стоимость (в рублях) колодца из железобетонных колец рассчитывается по формуле $€ 6000 + 4100n$, где n — число колец, установленных в колодце. Пользуясь этой формулой, рассчитайте стоимость колодца из 8 колец. Ответ дайте в рублях.

Ответ: _____.

14 Укажите решение системы неравенств

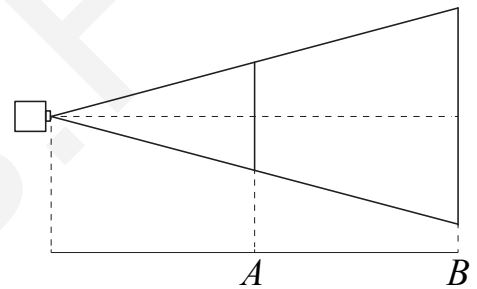
$$\begin{cases} -35 + 5x < 0, \\ 6 - 3x > -18. \end{cases}$$



Ответ:

Модуль «Геометрия»

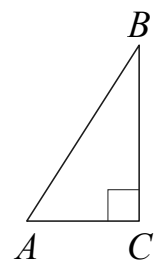
15 Проектор полностью освещает экран A высотой 110 см, расположенный на расстоянии 180 см от проектора. Найдите, на каком наименьшем расстоянии от проектора нужно расположить экран B высотой 220 см, чтобы он был полностью освещён, если настройки проектора остаются неизменными. Ответ дайте в сантиметрах.



Ответ: _____.

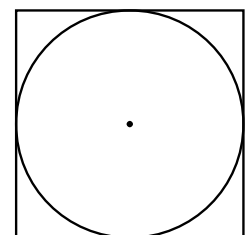
16 В треугольнике ABC угол C равен 90° , $BC = 30$, $AB = 40$. Найдите $\cos B$.

Ответ: _____.

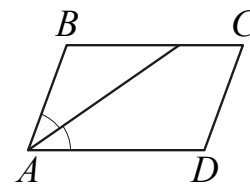


17 Сторона квадрата равна 24. Найдите радиус окружности, вписанной в этот квадрат.

Ответ: _____.




- 18** Найдите острый угол параллелограмма $ABCD$, если биссектриса угла A образует со стороной BC угол, равный 16° . Ответ дайте в градусах.



Ответ: _____.

- 19** На клетчатой бумаге с размером клетки 1×1 изображена фигура. Найдите её площадь.



Ответ: _____.

- 20** Какие из следующих утверждений верны?

- 1) Сумма углов прямоугольного треугольника равна 90 градусам.
- 2) Существуют три прямые, которые проходят через одну точку.
- 3) Диагонали ромба точкой пересечения делятся пополам.

В ответе запишите номера выбранных утверждений без пробелов, запятых и других дополнительных символов.

Ответ: _____.

Часть 2

При выполнении заданий 21–26 используйте отдельный лист бумаги. Сначала укажите номер задания, а затем запишите его решение и ответ. Пишите чётко и разборчиво.

Модуль «Алгебра»

21 Решите систему уравнений
$$\begin{cases} 4x^2 + y = 9, \\ 8x^2 - y = 3. \end{cases}$$

22 Два бегуна одновременно стартовали в одном направлении из одного и того же места круговой трассы в беге на несколько кругов. Спустя один час, когда одному из них оставалось 7 км до окончания первого круга, ему сообщили, что второй бегун пробежал первый круг 3 минуты назад. Найдите скорость первого бегуна, если известно, что она на 8 км/ч меньше скорости второго.

23 Постройте график функции

$$y = \begin{cases} 2x - 2 & \text{при } x < 3, \\ -3x + 13 & \text{при } 3 \leq x \leq 4, \\ 1,5x - 5 & \text{при } x > 4. \end{cases}$$

Определите, при каких значениях m прямая $y = m$ имеет с графиком ровно две общие точки.

Модуль «Геометрия»

24 Биссектрисы углов A и B при боковой стороне AB трапеции $ABCD$ пересекаются в точке F . Найдите AB , если $AF = 12$, $BF = 9$.

25 Через точку O пересечения диагоналей параллелограмма $ABCD$ проведена прямая, пересекающая стороны AB и CD в точках E и F соответственно. Докажите, что отрезки AE и CF равны.

26 В треугольнике ABC биссектриса BE и медиана AD перпендикулярны и имеют одинаковую длину, равную 40. Найдите стороны треугольника ABC .