

Решите систему уравнений  $\begin{cases} 5x - y = 7, \\ 3x + 2y = -1. \end{cases}$

В ответе запишите сумму решений системы.

$\begin{cases} 5x - y = 7 \\ 3x + 2y = -1 \end{cases}$  Ответ: (1; 2)

7. Задание 7 № 341122

В начале года число абонентов телефонной компании «Юг» составляло 300 тыс. человек, а в конце года их стало 345 тыс. человек. На сколько процентов увеличилось за год число абонентов этой компании?

$\frac{345 \cdot 100}{300} = 115\% - 100 = 15\%$

8. Задание 8 № 325317

Участников конференции разместили в гостинице в отдельных номерах, расположенных на этажах со второго по пятый. Количество номеров на этажах представлено на круговой диаграмме.

Какое утверждение относительно расселения участников конференции верно, если в гостинице разместились 50 участников конференции?



1) На четвертом и пятом этажах разместились одинаковое количество участников конференции.

2) Больше  $\frac{7}{8}$  всех участников разместились на этажах выше второго.

3) Не менее 10 участников разместились на 4 этаже.

4) Не более четверти участников разместились на 2 этаже.

9. Задание 9 № 311525

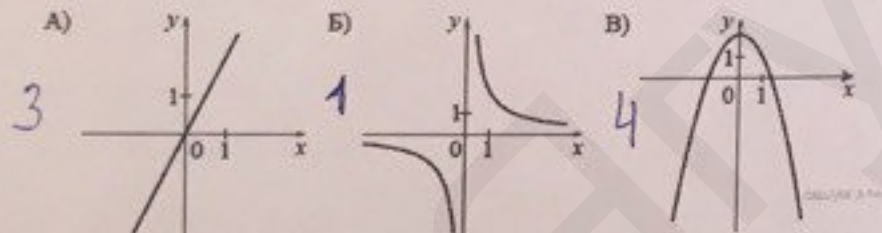
В коробке 14 пакетиков с черным чаем и 6 пакетиков с зеленым чаем. Павел наугад вынимает один пакетик. Какова вероятность того, что это пакетик с зеленым чаем?

$\frac{6}{20} = 0,3$

10. Задание 10 № 112

Установите соответствие между графиками функций и формулами, которые их задают.

314



- 1)  $y = \frac{2}{x}$
- 2)  $y = x^2 - 2$
- 3)  $y = 2x$
- 4)  $y = 2 - x^2$

Ответ укажите в виде последовательности цифр без пробелов и запятых в указанном порядке.

□ □ □

Роденать

3	1	4
---	---	---

11. Задание 11 № 137295

Последовательность задана формулой  $c_n = n + \frac{(-1)^n}{n}$ . Какое из следующих чисел не является членом этой последовательности?

$n=2; n=3; n=4; n=5; n=6$

- 1)  $2\frac{1}{2}$
- 2)  $4\frac{1}{4}$
- 3)  $5\frac{1}{5}$
- 4)  $6\frac{1}{6}$

12. Задание 12 № 338181

Найдите значение выражения  $(\frac{a+2b}{a^2-2ab} - \frac{1}{a}) : \frac{b}{2b-a}$  при  $a=1,6, b=\sqrt{2}-1$ .

$(\frac{a+2b}{a^2-2ab} - \frac{1}{a}) : \frac{b}{2b-a}$

13. Задание 13 № 318364

Автомобиль проехал 200 километров и израсходовал при этом  $a$  литров бензина. Сколько литров бензина потребуется, чтобы проехать 37 километров при таких же условиях езды? Запишите соответствующее выражение.

14. Задание 14 № 333083

Решение какого из данных неравенств изображено на рисунке? В ответе укажите номер правильного варианта.




- 1)  $x^2 - 5x < 0$
- 2)  $x^2 - 25 > 0$
- 3)  $x^2 - 5x > 0$
- 4)  $x^2 - 25 < 0$

15. Задание 15 № 341714

Какой угол (в градусах) образуют минутная и часовая стрелки часов в 7:00?

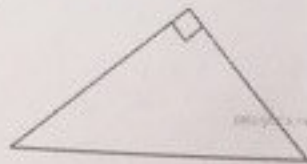
30°



16. Задание 16 № 350753

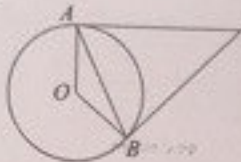


Один из острых углов прямоугольного треугольника равен  $48^\circ$ .  
Найдите его другой острый угол. Ответ дайте в градусах.



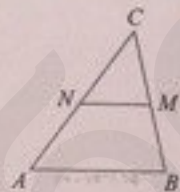
17. Задание 17 № 350817

Касательные в точках  $A$  и  $B$  к окружности с центром  $O$  пересекаются под углом  $12^\circ$ . Найдите угол  $ABO$ . Ответ дайте в градусах.



18. Задание 18 № 350897

В треугольнике  $ABC$  отмечены середины  $M$  и  $N$  сторон  $BC$  и  $AC$  соответственно. Площадь треугольника  $CNM$  равна 21. Найдите площадь четырёхугольника  $ABMN$ .



19. Задание 19 № 353526

На клетчатой бумаге с размером клетки  $1 \times 1$  изображён ромб. Найдите длину его большей диагонали.



20. Задание 20 № 341358

Какие из следующих утверждений верны?

- 1) Длина гипотенузы прямоугольного треугольника меньше суммы длин его катетов.
- 2) В тупоугольном треугольнике все углы тупые.
- 3) Средняя линия трапеции равна полусумме её оснований.

Если утверждений несколько, запишите их номера в порядке возрастания.

21. Задание 21 № 311597

Найдите значение выражения  $\frac{(3x)^4 \cdot x^{-15}}{x^{-13} \cdot 4x^7}$  при  $x = 3$ .

22. Задание 22 № 338928

Из городов  $A$  и  $B$  навстречу друг другу одновременно выехали мотоциклист и велосипедист. Мотоциклист приехал в  $B$  на 42 минуты раньше, чем велосипедист приехал в  $A$ , а встретились они через 25 минут после выезда. Сколько часов затратил на путь из  $B$  в  $A$  велосипедист?

✓ 23. Задание 23 № 338435

Постройте график функции  $y = \frac{(x^2 - 3x)(x)}{x - 3}$  и определите, при каких значениях  $m$  прямая  $y = m$  не имеет с графиком ни одной общей точки.

24. Задание 24 № 311698

Прямая, параллельная основаниям  $AD$  и  $BC$  трапеции  $ABCD$ , проходит через точку пересечения диагоналей трапеции и пересекает её боковые стороны  $AB$  и  $CD$  в точках  $E$  и  $F$  соответственно. Найдите длину отрезка  $EF$ , если  $AD = 10$  см,  $BC = 15$  см.

25. Задание 25 № 316297

В остроугольном треугольнике  $ABC$  точки  $A$ ,  $C$ , точка пересечения высот  $H$  и центр вписанной окружности  $I$  лежат на одной окружности. Докажите, что угол  $ABC$  равен  $60^\circ$ .

26. Задание 26 № 314941

Основание  $AC$  равнобедренного треугольника  $ABC$  равно 18. Окружность радиуса 12 с центром вне этого треугольника касается продолжения боковых сторон треугольника и касается основания  $AC$  в его середине. Найдите радиус окружности, вписанной в треугольник  $ABC$ .



Вариант № 11610866

1. Задание 1 № 314173

Найдите значение выражения

$$9 \cdot \left(\frac{1}{9}\right)^2 - 19 \cdot \frac{1}{9} = -2$$

$$9 \cdot \left(\frac{1}{9}\right)^2 - 19 \cdot \frac{1}{9} = 9 \cdot \frac{1}{81} - 19 \cdot \frac{1}{9} = \frac{1}{9} - \frac{19}{9} = -2$$

2. Задание 2 № 348556

В таблице даны результаты олимпиад по физике и биологии в 10 «А» классе.

Номер ученика	Балл по физике	Балл по биологии
5005	40	63
5006	96	61
5011	36	70
5015	94	46
5018	34	50
5020	39	83
5025	87	70
5027	100	99
5029	63	75
5032	89	45
5041	57	79
5042	69	98
5043	57	83
5048	93	72
5054	63	69

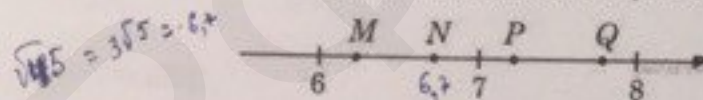
Похвальные грамоты дают тем школьникам, у кого суммарный балл по двум олимпиадам больше 120.

или хотя бы по одному предмету набрано не меньше 65 баллов. Сколько человек из 10 «А», набравших меньше 65 баллов по физике, получают похвальные грамоты?

- 1) 6
- 2) 5
- 3) 4
- 4) 3

3. Задание 3 № 314155

Одна из точек, отмеченных на координатной прямой, соответствует числу  $\sqrt{45}$ . Какая это точка?



- 1) точка M
- 2) точка N
- 3) точка P
- 4) точка Q

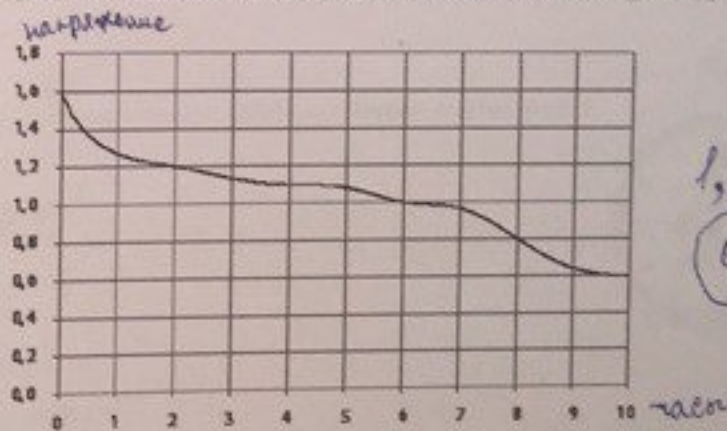
4. Задание 4 № 353591

В какое из следующих выражений можно преобразовать выражение  $(m^{-9})^{-4} \cdot m^{-6}$ ?

- 1)  $m^{-7}$
- 2)  $m^{30}$
- 3)  $m^{42}$
- 4)  $m^{-25}$

5. Задание 5 № 322186

При работе фонарика батарейка постепенно разряжается, и напряжение в электрической цепи фонарика падает. На рисунке показана зависимость напряжения в цепи от времени работы фонарика. На горизонтальной оси отмечается время работы фонарика в часах, на вертикальной оси — напряжение в вольтах. Определите по рисунку, на сколько вольт упадет напряжение за 2 часа с начала работы фонарика.



$$1,6 - 1,2 = 0,4$$

6. Задание 6 № 311350