

Часть 1

Единый государственный экзамен по МАТЕМАТИКЕ
Тренировочный вариант № 65

Инструкция по выполнению работы

На выполнение заданий варианта КИМ по математике даётся 3 часа 55 минут (235 минут). Работа состоит из двух частей, включающих в себя 21 задание.

Часть 1 содержит 10 заданий (задания В1–В10) базового уровня сложности, проверяющих наличие практических математических знаний и умений.

Часть 2 содержит 11 заданий (задания В11–В15 и С1–С6) базового, повышенного и высокого уровней по материалу курса математики средней школы, проверяющих уровень профильной математической подготовки.

Ответом к каждому из заданий В1–В15 является целое число или конечная десятичная дробь. При выполнении заданий С1–С6 требуется записать полное решение и ответ.

Все бланки ЕГЭ заполняются яркими чёрными чернилами. Допускается использование гелевой, капиллярной или перьевой ручки.

При выполнении заданий Вы можете пользоваться черновиком. Обращаем Ваше внимание, что записи в черновике не будут учитываться при оценивании работы.

Советуем выполнять задания в том порядке, как они даны. Для экономии времени пропускайте задание, которое не удаётся выполнить сразу, и переходите к следующему. Если после выполнения всей работы у Вас останется время, Вы сможете вернуться к пропущенным заданиям.

Баллы, полученные Вами за выполненные задания, суммируются. Постарайтесь выполнить как можно больше заданий и набрать наибольшее количество баллов.

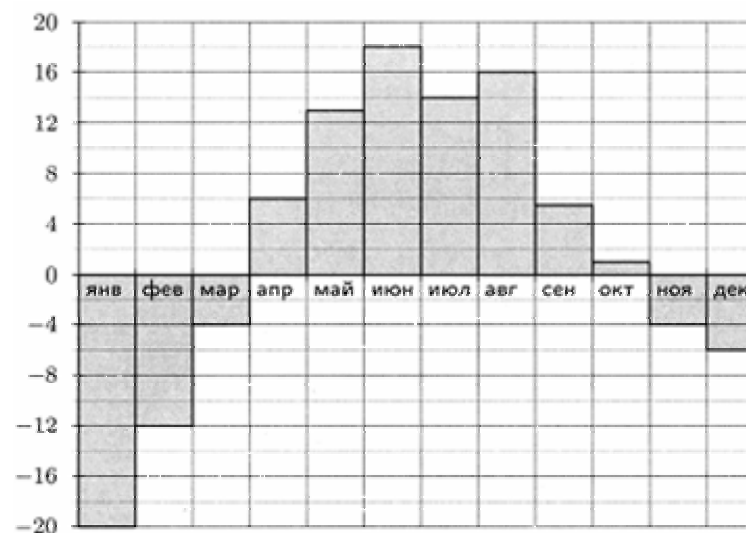
Желаем успеха!

Ответом к заданиям этой части (В1–В10) является целое число или конечная десятичная дробь. Ответ следует записать в бланк ответов № 1 справа от номера соответствующего задания, начиная с первой клеточки, без пробелов. Каждую цифру, знак минус и запятую пишете в отдельной клеточке в соответствии с приведёнными в бланке образцами. Единицы измерения писать не нужно.

В1. В пачке 500 листов бумаги формата А4. За неделю в офисе расходуется 1200 листов. Какое наименьшее количество пачек бумаги нужно купить в офис на 4 недели?

В2. Магазин закупает цветочные горшки по оптовой цене 120 рублей за штуку и продает с наценкой 20%. Какое наибольшее число таких горшков можно купить в этом магазине на 1000 рублей?

В3. На диаграмме показана среднемесячная температура воздуха в Свердловске (ныне – Екатеринбург) за каждый месяц 1973 года. По горизонтали указываются месяцы, по вертикали – температура в градусах Цельсия. Определите по диаграмме, сколько месяцев в 1973 году средняя температура была выше, чем 2°C .

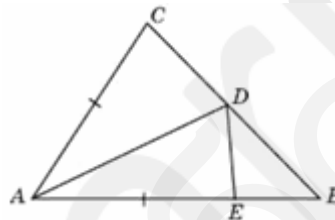


B4. В таблице указаны средние цены (в рублях) на некоторые основные продукты питания в трёх городах России (по данным на начало 2010 года).

Наименование продукта	Владивосток	Омск	Хабаровск
Пшеничный хлеб (батон)	12	16	12
Молоко (1 литр)	25	24	25
Картофель (1 кг)	18	16	14
Сыр (1 кг)	250	260	260
Говядина (1 кг)	300	295	260
Подсолнечное масло (1 литр)	58	50	65

Определите, в каком из этих городов окажется самым дешёвым следующий набор продуктов: 1 батона пшеничного хлеба, 4 кг картофеля, 1 кг сыра. В ответ запишите стоимость данного набора продуктов в этом городе (в рублях).

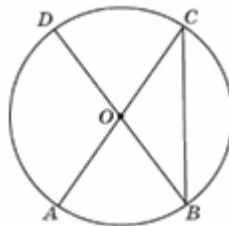
B5. В треугольнике ABC угол B равен 45° , угол C равен 85° , AD – биссектриса, E – такая точка на AB , что $AE = AC$. Найдите угол BDE . Ответ дайте в градусах.



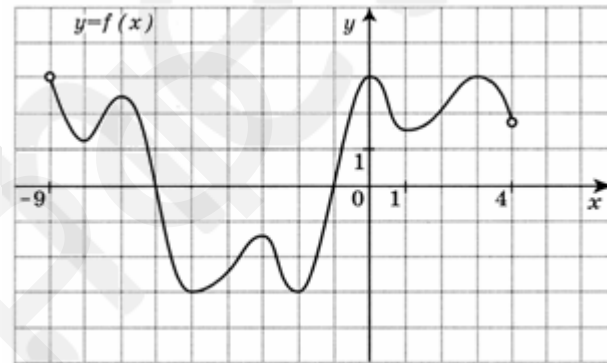
B6. В Волшебной стране бывает два типа погоды: хорошая и отличная, причём погода, установившись утром, держится неизменной весь день. Известно, что с вероятностью $0,8$ погода завтра будет такой же, как и сегодня. Сегодня 3 июля, погода в Волшебной стране хорошая. Найдите вероятность того, что 6 июля в Волшебной стране будет отличная погода.

B7. Найдите корень уравнения $\sqrt{\frac{6}{4x-54}} = \frac{1}{7}$.

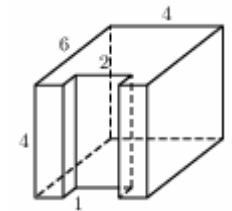
B8. AC и BD – диаметры окружности с центром O . Угол ACB равен 38° . Найдите угол AOD . Ответ дайте в градусах.



B9. На рисунке изображён график функции $y = f(x)$, определённой на интервале $(-9; 4)$. Найдите сумму абсцисс точек экстремума функции $f(x)$.



B10. Найдите площадь поверхности многогранника, изображенного на рисунке (все двугранные углы прямые).



Часть 2

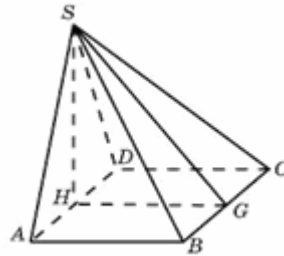
Ответом к заданиям этой части (B11–B15) является целое число или конечная десятичная дробь. Ответ следует записать в бланк ответов № 1 справа от номера соответствующего задания, начиная с первой клеточки, без пробелов. Каждую цифру, знак минус и запятую пишите в отдельной клеточке в соответствии с приведёнными в бланке образцами. Единицы измерения писать не нужно.

B11. Найдите значение выражения $\left(\sqrt{3\frac{6}{7}} - \sqrt{1\frac{5}{7}}\right) : \sqrt{\frac{3}{28}}$.

B12. Некоторая компания продает свою продукцию по цене $p = 500$ руб. за единицу, переменные затраты на производство одной единицы продукции составляют $v = 300$ руб., постоянные расходы предприятия $f = 700000$ руб. в

месяц. Месячная операционная прибыль предприятия (в рублях) вычисляется по формуле $\pi(q) = q(p - v) - f$. Определите месячный объем производства q (единиц продукции), при котором месячная операционная прибыль предприятия будет равна 300000 руб.

B13. Основанием пирамиды служит прямоугольник, одна боковая грань перпендикулярна плоскости основания, а три другие боковые грани наклонены к плоскости основания под углом 60° . Высота пирамиды равна b . Найдите объем пирамиды.



B14. По морю параллельными курсами в одном направлении следуют два сухогруза: первый длиной 120 метров, второй — длиной 80 метров. Сначала второй сухогруз отстает от первого, и в некоторый момент времени расстояние от кормы первого сухогруза до носа второго составляет 400 метров. Через 12 минут после этого уже первый сухогруз отстает от второго так, что расстояние от кормы второго сухогруза до носа первого равно 600 метрам. На сколько километров в час скорость первого сухогруза меньше скорости второго?

B15. Найдите наибольшее значение функции $y = 5 + 9x - \frac{x^3}{3}$ на отрезке $[-3; 3]$.

C3. Решите систему неравенств:

$$\begin{cases} \log_4(3^x - 1) \log_{\frac{1}{4}}\left(\frac{3^x - 1}{16}\right) \leq \frac{3}{4} \\ \log_4(3 - 2x)^2 \geq \log_2(x^2 - 1) \end{cases}$$

C4. Точка D делит сторону AC в отношении AD: DC = 1: 2.

а) Докажите, что в треугольнике ABD найдется медиана, равная одной из медиан треугольника DBC.

б) Найдите длину этой медианы в случае, если AB = 7, BC = 8 и AC = 9.

C5. Найти все значения параметра a при каждом из которых число целочисленных решений неравенства $x^2 + 5(x + 1) + 3|x - a| + a \leq 0$ максимально.

C6. За круглым столом сидят 4 гнома. Перед каждым стоит кружка с молоком. Один из гномов переливает $\frac{1}{4}$ своего молока соседу справа. Затем сосед справа делает то же самое. Затем то же самое делает следующий сосед справа и наконец четвертый гном $\frac{1}{4}$ оказавшегося у него молока наливает первому. Во всех кружках вместе молока 2 л. Сколько молока было первоначально в кружках, если

а) в конце у всех гномов молока оказалось поровну?

б) в конце у всех гномов оказалось молока столько, сколько было в начале?

Для записи решений и ответов на задания C1–C6 используйте бланк ответов № 2. Запишите сначала номер выполняемого задания (C1, C2 и т.д.), а затем полное обоснованное решение и ответ.

C1. а) Решите уравнение $\sqrt{2 - 3 \cos 2x} = \sqrt{\sin x}$

б) Найдите все корни на промежутке $\left[-\frac{5\pi}{2}; -\frac{\pi}{2}\right]$

C2. В треугольной пирамиде длины двух непересекающихся ребер равны 12 и 4, а остальные ребра имеют длину 7. В пирамиду вписана сфера. Найти расстояние от центра сферы до ребра длины 12.