

Единый государственный экзамен по МАТЕМАТИКЕ**Тренировочный вариант № 39****Профильный уровень****Инструкция по выполнению работы**

Экзаменационная работа состоит из двух частей, включающих в себя 19 заданий. Часть 1 содержит 8 заданий базового уровня сложности с кратким ответом. Часть 2 содержит 4 задания повышенного уровня сложности с кратким ответом и 7 задания повышенного и высокого уровня сложности с развёрнутым ответом.

На выполнение экзаменационной работы по математике отводится 3 часа 55 минут (235 минут).

Ответы к заданиям 1–12 записываются в виде целого числа или конечной десятичной дроби. Числа запишите в поля ответов в тексте работы, а затем перенесите в бланк ответов № 1.

При выполнении заданий 13–19 требуется записать полное решение и ответ в бланке ответов № 2. Все бланки ЕГЭ заполняются яркими чёрными чернилами. Допускается использование гелевой или капиллярной ручки. При выполнении заданий можно пользоваться черновиком. Записи в черновике, а также в тексте контрольных измерительных материалов не учитываются при оценивании работы. Баллы, полученные Вами за выполненные задания, суммируются. Постарайтесь выполнить как можно больше заданий и набрать наибольшее количество баллов. После завершения работы проверьте, что ответ на каждое задание в бланках ответов № 1 и № 2 записан под правильным номером.

ЖЕЛАЕМ УСПЕХА!**Справочные материалы**

$$\sin^2 \alpha + \cos^2 \alpha = 1$$

$$\sin 2\alpha = 2 \sin \alpha \cos \alpha$$

$$\cos 2\alpha = \cos^2 \alpha - \sin^2 \alpha$$

$$\sin(\alpha + \beta) = \sin \alpha \cos \beta + \cos \alpha \sin \beta$$

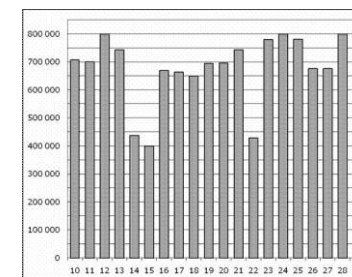
$$\cos(\alpha + \beta) = \cos \alpha \cos \beta - \sin \alpha \sin \beta$$

Ответом к заданиям 1-12 является целое число или конечная десятичная дробь. Запишите число в поле ответа в тексте работы, затем перенесите его в БЛАНК ОТВЕТОВ №1 справа от номера соответствующего задания, начиная с первой клеточки. Каждую цифру, знак «минус» и запятую пишите в отдельной клеточке. Единицы измерения писать не нужно.

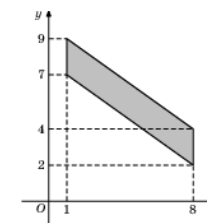
Часть 1

1. Бегун пробежал 50 м за 5 секунд. Найдите среднюю скорость бегуна на дистанции. Ответ дайте в километрах в час.

2. На диаграмме показано количество посетителей сайта РИА Новости во все дни с 10 по 29 ноября 2009 года. По горизонтали указываются дни месяца, по вертикали — количество посетителей сайта за данный день. Определите по диаграмме, какого числа в указанный период количество посетителей сайта РИА Новости впервые приняло наибольшее значение.



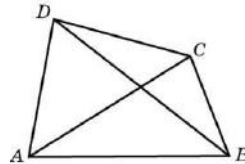
3. Найдите площадь четырехугольника, вершины которого имеют координаты (1;7), (8;2), (8;4), (1;9).



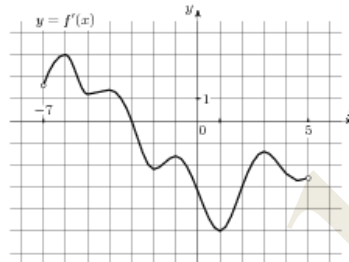
4. Всем пациентам с подозрением на гепатит делают анализ крови. Если анализ выявляет гепатит, то результат анализа называется положительным. У больных гепатитом пациентов анализ даёт положительный результат с вероятностью 0,9. Если пациент не болен гепатитом, то анализ может дать ложный положительный результат с вероятностью 0,01. Известно, что 5% пациентов, поступающих с подозрением на гепатит, действительно больны гепатитом. Найдите вероятность того, что результат анализа у пациента, поступившего в клинику с подозрением на гепатит, будет положительным.

5. Найдите корень уравнения $x^{\log_3 9} + x = \sqrt{x^4} + 3$.

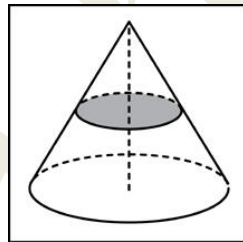
6. Диагонали четырехугольника равны 3,5 и 4,5. Найдите периметр четырехугольника, вершинами которого являются середины сторон данного четырехугольника.



7. На рисунке изображен график $y = f'(x)$ — производной функции $f(x)$, определенной на интервале $(-7; 5)$. Найдите точку экстремума функции $f(x)$, принадлежащую отрезку $[-6; 4]$.



8. Объем конуса равен 27. Через середину высоты параллельно основанию конуса проведено сечение, которое является основанием меньшего конуса с той же вершиной. Найдите объем меньшего конуса.



Часть 2

9. Найдите значение выражения $2^{3\sqrt{7}-1} \cdot 8^{1-\sqrt{7}}$

10. На верфи инженеры проектируют новый аппарат для погружения на небольшие глубины. Конструкция имеет кубическую форму, а значит, действующая на аппарат выталкивающая (архимедова) сила, выражаемая в ньютонах, будет определяться по формуле: $F_A = \rho g l^3$, где l — длина ребра куба в метрах, $\rho = 1000 \text{ кг/м}^3$ — плотность воды, а g — ускорение свободного падения (считайте $g = 9,8 \text{ Н/кг}$). Какой может быть максимальная длина ребра куба, чтобы обеспечить его эксплуатацию в условиях, когда выталкивающая сила при погружении будет не больше, чем 78 400 Н? Ответ выразите в метрах.

11. Из одной точки круговой трассы, длина которой равна 14 км, одновременно в одном направлении стартовали два автомобиля. Скорость первого автомобиля равна 80 км/ч, и через 40 минут после старта он опережал второй автомобиль на один круг. Найдите скорость второго автомобиля. Ответ дайте в км/ч.

12. Найдите точку максимума функции $y = (x + 9)e^{9-x}$

Для записи решений и ответов на задания 13-19 используйте БЛАНК ОТВЕТОВ №2. Запишите сначала номер выполняемого задания (13, 14 и т.д.), а затем полное обоснованное решение и ответ. Ответы записывайте чётко и разборчиво.

13. а) Решите уравнение

$$16 - 4^{x \lg 7} = |6 \cdot 7^{x \lg 2} - 24|.$$

б) Найдите все корни этого уравнения, принадлежащие промежутку $[1,5; 2,5]$.

14. Основание пирамиды $DABC$ — треугольник ABC со сторонами $AC = 6$, $BC = 8$, $AB = 10$. Все боковые рёбра равны.

а) Докажите, что высота пирамиды проходит через середину отрезка AB .

б) Найдите расстояние между прямыми DM и BC , где DM — высота пирамиды $DABC$.

15. Решите неравенство:

$$\log_{3x^2}(9x^5) - \log_3^2 x \leq 2.$$

16. Окружность с центром O , вписанная в треугольник ABC , касается стороны BC в точке M . Окружность с центром O_1 касается стороны BC в точке N , а также касается продолжений сторон AC и AB .

а) Докажите, что $BN = CM$.

б) Найдите OO_1 , если $AC = 10$, $BC = 24$, $AB = 26$.

17. Пенсионный фонд владеет акциями, цена которых к концу года t становится равной t^2 тыс. руб. (т. е. к концу первого года они стоят 1 тыс. руб., к концу второго — 4 тыс. руб. и т. д.), в течение 20 лет. В конце любого года можно продать акции по их рыночной цене на конец года и положить вырученные деньги в банк под 25% годовых. В конце какого года нужно продать акции, чтобы прибыль была максимальной?

18. Найдите все значения параметра a , при каждом из которых уравнение

$$\log_3 \left(2 + \frac{|x|}{x} \right) = (x + 2)^2 + a.$$

имеет ровно 2 различных корня. Найдите эти корни при каждом a .

19. На доске написано 30 натуральных чисел (не обязательно различных), каждое из которых больше 4, но не превосходит 44. Среднее арифметическое написанных чисел равно 11. Вместо каждого из чисел на доске написали число, в два раза меньшее первоначального. Числа, которые после этого оказались меньше 3, с доски стёрли.

а) Могло ли оказаться так, что среднее арифметическое чисел, оставшихся на доске, больше 16?

б) Могло ли среднее арифметическое оставшихся на доске чисел оказаться больше 14, но меньше 15?

в) Найдите наибольшее возможное значение среднего арифметического чисел, которые остались на доске.